



























Učíme sa navzájom a hravo

























*Tieto úlohy vytvorili deti pre deti,
aby učenie doma v čase zavretých škôl
bolo zábavné a tvorivé*

*Úlohy vznikli v rámci súťaže s Hravô
(<https://www.hravohracky.eu/>)*



Vlajky štátov na rubikovej kočke

<p>Francúzsko Hlavné mesto: Paríž Mena: Euro</p>   	<p>Taliansko Hlavné mesto: Rím Mena: Euro</p>   	<p>Rusko Hlavné mesto: Moskva Mena: Ruský rubľ</p>   	<p>Fínsko Hlavné mesto: Helsinki Mena: Euro</p>   
<p>Poľsko Hlavné mesto: Varšava Mena: Poľský zlotý</p>   	<p>Litva Hlavné mesto: Vilnius Mena: Euro</p>   	<p>Španielsko Hlavné mesto: Madrid Mena: Euro</p>   	<p>Lotyšsko Hlavné mesto: Riga Mena: Euro</p>   

<p>Írsko Hlavné mesto: Dublin Mena: Euro</p>   	<p>Maďarsko Hlavné mesto: Budapešť Mena: Maďarský forint</p>   	<p>Holandsko Hlavné mesto: Amsterdam Mena: Euro</p>   	<p>Švédsko Hlavné mesto: Štokholm Mena: Švédská koruna</p>   
<p>Švajčiarsko Hlavné mesto: Bern Mena: Švajčiarsky frank</p>   	<p>Ukrajina Hlavné mesto: Kyjev Mena: Ukrajinská hrivna</p>   	<p>Bielorusko Hlavné mesto: Minsk Mena: Bieloruský rubel'</p>   	<p>Rumunsko Hlavné mesto: Bukurešť Mena: Rumunský lei</p>   

Mená:

Úloha 3. Nakresli



Úloha 1. Priradi ii, y, ý


jahod_ , š_ška , ps_k , pohár_k ,
pern_k , mal_n , kvet_n , kvet_ , v_za , tr_ ,
úloh_ , Jul_ , dvoj_čky , Mart_n , l_st_ ,
f_alová , zelen_ , škared_ , nožn_ce , št_ry

Úloha 2. Napiš názov 8

Úloha 4. Napiš po anglicky



Ako sa tipáčil pracovný list?



Nákup

Vystrihnite si z letákov rôzny tovar aj s jeho cenou a nalepte na papier. Napríklad potraviny – jablká, mlieko, chlieb, mäso... Potom sa hrajte, že idete na nákup a počítajte, čo všetko môžete kúpiť.

Ak mám v peňaženke 10 Eur, čo všetko si môžem kúpiť?

Ak mám v peňaženke 15 Eur a potrebujem 3 litre mlieka, 2 kilá jablák a 10 rožkov, koľko mi zostane?

Nákupovník

Mlieko 0,70€
Mlieko 1,00€
Mlieko 0,72€
Mlieko 0,20€

Učebni: mám 15 peňaženka 14 EUR. Učeb nákup, aby si mohol hrať
A na obed: pečenie, kivi, jablko, chlieb. *Prečítanie: cenník, pečenie, mlieko, chlieb, mäso*

Triedni jablky a pečenie
Pečenie: 0,5€ + 0,2€ + 0,2€ = 0,9€
Výsledok: 4,5€

Pečenie: 1,20 + 0,20 = 1,40€
Výsledok: 2,7€


Mlieko: 3,00 + 0,30 + 0,20 = 3,50€
Výsledok: 1,50€

Celkom: 1,30 + 2,70 = 4,00 + 1,50 = 5,50
Učeb nákup, aby: 5,50€


1 PRVÁ

2	+	8	=		
8	+	0	=		
5	-	3	=		
8	-	0	=		
8	-	2	=		



2 DRUHÁ



4 ŠTVRTÁ



3 TRETIA



VÝPOČÍTAJ.

$8 + 2 =$

$10 - 10 =$

$18 - 3 =$

$2 + 3 =$

$10 + 2 =$

$13 - 8 =$

MATEMATIKA PRACOVNÝ LIST

20	5	12	6	1

7	18	3

VÝPOČÍTAJ

TAJNÁ SPRÁVA

$9 - 8 = \square \text{ A}$

$18 + 2 = \square \text{ V}$

$8 + 3 = \square \text{ N}$

$8 - 5 = \square \text{ C}$

$9 - 3 = \square \text{ K}$

$3 + 5 = \square \text{ O}$

$4 + 8 = \square \text{ L}$

$2 + 3 = \square \text{ E}$



① VÝTVOR PRÍBEH:

DÚHA



KVET



VČIELKA



② VÝPOČÍTAJ:

♡ = 00

0000 = ?

③

DOKR ES LI:



Meno:


Dorob zajka z prírodných materiálov




Tajuplné obrázky s vodovými farbami

Budete potrebovať : výkres, štetec, nádobu na vodu, vodové farby, bielu voskovku alebo sviečku.

Sviečkou alebo voskovkou nakreslite vajíčko a vzory na papier, potom ho vymalujete s pestrými farbami. Tam kde bola stopa sviečky alebo voskovky papier ostane biely. Nám lepšie fungovala sviečka. Prajem príjemné tvorenie!



Hľadaj na lúke alebo v záhrade



• Čo sa deti učia v škole?

Usporiadaj ~~po~~ od najväčšieho po
najmenšie.

$$11 + 75 = C \quad 705 - 658 = \cancel{A}U$$

$$100 - 7 = E \quad 1097 - 507 = A$$

$$12 + 50 = D$$

$$71 + 7 = E$$

$$99 + 77 = B$$

Vypočítaj:

1. ročník : $5 - 3 =$
 $13 + 4 =$
 $20 - 12 =$
 $4 + 16 =$
 $1 + 19 =$
 $6 - 2 =$
 $8 - 3 =$
 $4 + 12 =$
 $5 - 4 =$
 $14 + 0 =$

3. ročník :
 $5 \times 5 =$
 $10 \div 2 =$
 $9 \times 9 =$
 $42 \div 7 =$
 $3 \times 5 =$
 $72 \div 9 =$
 $7 \times 8 =$
 $36 \div 4 =$
 $100 \div 4 =$

2. ročník :
 $20 + 5 =$
 $30 - 15 =$
 $80 + 5 =$
 $70 - 45 =$
 $100 + 0 =$
 $95 - 65 =$
 $59 + 12 =$
 $100 - 31 =$
 $27 + 16 =$

4. ročník :

Slovná úloha


Viera mala 10 g jabák. Mária mala 95 g jabák. Koľko g jabák mali Viera a Mária spolu?

Aké číslo chýba???

1. $1 + 9 + \dots = 19$
 $3 + 2 + \dots = 10$
 $8 + \dots + 3 = 15$
 $7 + \dots + 2 = 12$
 $2 + \dots + 10 = 20$

2. $20 - 10 - \dots = 5$
 $13 - 3 - \dots = 1$
 $18 - 5 - \dots = 8$
 $12 - 10 - \dots = 0$
 $17 - 6 - \dots = 4$

3. Na ktorom mieste sú všetky čísla menšie 7??



Aké písmeno chýba???

1. ...apica, ma...ka, ...arys
ma...ka, pomaran...



2. Napiš slova s písmenami č, š po obrázku.

Castipastilina



Stonka

Kvet

Koren

List

VYPOČÍTAJ A ZAPÍŠ

$10 + 10 = -$

$20 - 3 = -$

$3 + 5 = -$

$5 - 1 = -$

$4 + 2 = -$

$6 - 6 = -$

$8 + 1 = -$



O HODNOTĚ SA

